

第5学年 学年だより

# 多半


宮園小学校  
1月号②

令和3年1月28日(木)

## 四季中校区合同授業研究会

3学期の登校日も残すところあと39日となりました。一人一人が掲げた3学期の目標を達成して、最高学年に向けて全員で成長したいものです。

さて、先週の1月21日に行われた四季中校区合同授業研究会では、タブレット越しに多くの先生方が子どもたちの様子を参観されました。授業前、子どもたちには、かけられるだけのプレッシャーをかけたためか、多くの児童から緊張したとの声がありました。しかし、一人一人自分で目標を定め、学習に向けて真剣に取り組みました。学び方もより良くなりつつあり、今後の子どもたちのさらなる成長が楽しみです。引き続き温かいお声かけをよろしくお願いいたします。



# 児童の作った問題の一部

問題

(1)海津市の「畜産」の生産額1%あたりは1970年と2017年、どちらが多いでしょうか。  
ヒント 1970年のほうが33%で多い...ですが、よく見ると2017年は56億円と、1970年より多いですね。

(2)海津市の1970年の「その他」の生産額は、約何億円ででしょうか。  
ヒント 1970年の「その他」は、17%ですね。1970年の生産額1%分は...

(3)中京工業地帯の工業生産額は、全国の工業生産額の約何%でしょう。  
ヒント 全国の工業生産額は左下に...

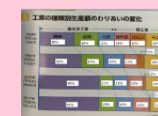
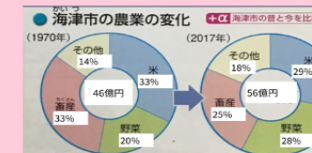
(4)太平洋ベルトの工業生産額は、全体の約何%でしょう。  
ヒント 太平洋ベルトの工業生産額を足して...

(5)2000年と2017年の機械の工業生産額は、どちらが多いでしょう。  
ヒント 割合が同じなら〇〇〇を...

(6)答えが合っているものに○、合っていないものに×をつけてください。  
1 繊維の工業生産額はだんだん減っていている

2 2017年の金属の工業生産額は1960年に比べて増えている

3 2000年の食品の工業生産額は約36%  
ヒント 1,2 全体の生産額と割合を... 3 単位は...



①2017年の肥料代の量は、1960年の何%でしょうか？



昭和35年と平成29年では金属の生産額はどちらが多いですか？

資料を見て次の問題に答えましょう



平成12年と平成29年ではどちらの方が化学工業生産額が高いですか。答えましょう。

答え

学習した内容を発展的に活用して問題を作っている児童もいます。解説も児童が自分で作ります。今までの学習を生かした工夫なども入っていて素晴らしいですね。